

# Jak vzniká mapa



Regionální muzeum v Litomyšli

pracovní list

## Peutingerova mapa

1) Jak jsou vyobrazena tři nejvýznamnější města říše – Řím, Konstantinopol a Antiochie – sídla synů císaře Konstantina Velikého?

.....

2) Kolik světadílů mapa zachycuje? Vyjmenuj je.

.....



## Martin Kabátník

3) K jakému moravskému hradu přirovnává Kabátník hrad v Antiochii? .....

4) Co popisuje v Damašku? .....

## Müllerova mapa Čech

5) Změř délku chodby muzea od pultové vitríny na konci chodby k druhým (!) proskleným dveřím. Použij měřicí kolo, jeho obvod je jeden metr – .....

6) Zjisti pomocí buzoly, jak je orientovaná chodba muzea – .....

.....

7) Najdi následující místa na Müllerově mapě a zapiš číslo listu (je vždy v levém horním rohu), na kterém se nachází:

Praha (Prag) – .....

Hradec Králové (Königingratz) – .....

Litomyšl (Leutomischl) – .....

## Německé vesnice

8) Zapiš německé názvy těchto okolních vesnic:

Čistá (Litrbachy) – .....

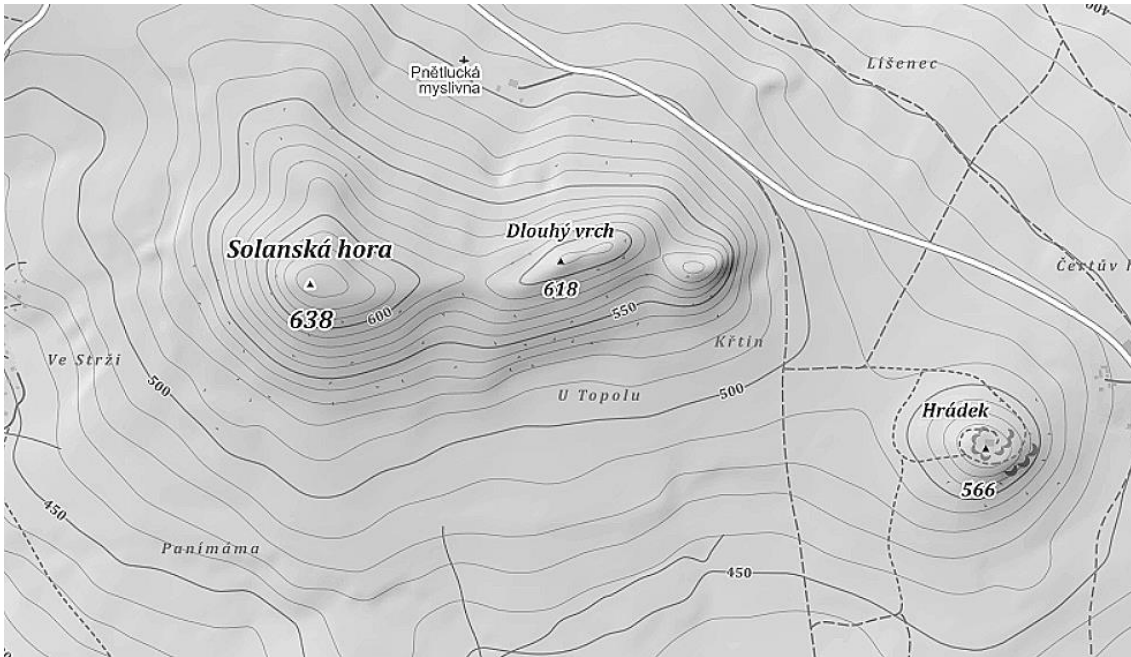
Chmelík – .....

Strakov – .....




# Výškopis

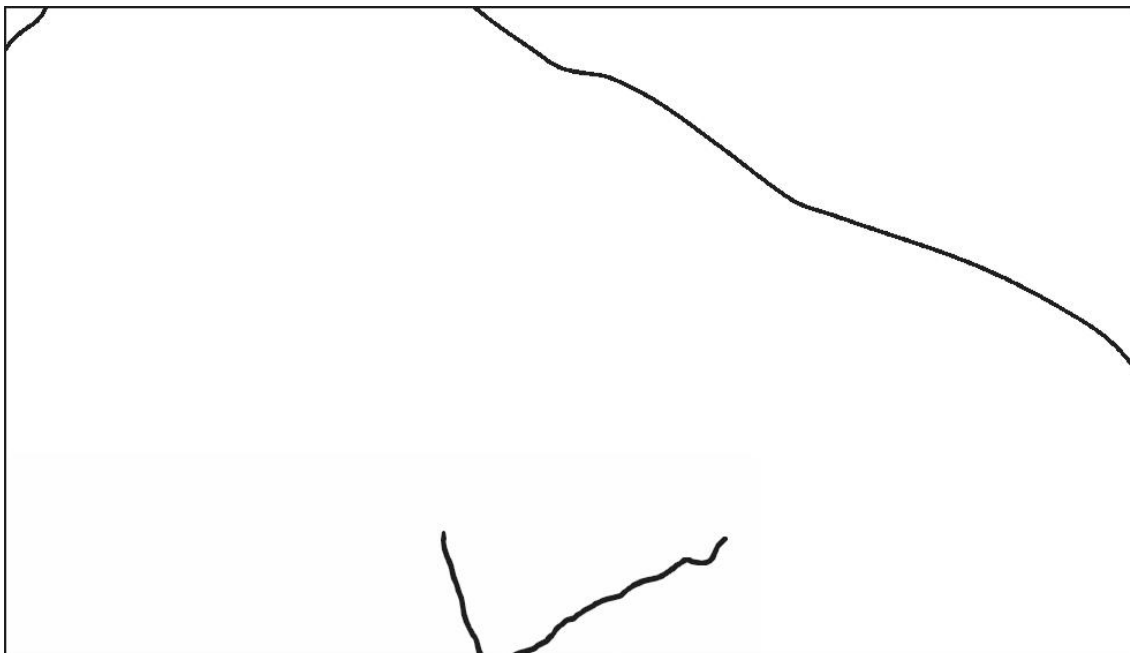
9) Překresli moderní mapu nahoře s pomocí „kopečkové metody“ a šraf (spádnice)



vrstevnice  
stínování



kopečková  
metoda



spádnice

10) Mapy zdobila mj. vyobrazení obyvatel různých zemí. Pokus se podle oblečení ze 17. století poznat národnosti, jak byly zachyceny na mapách holandského kartografa Willem Blaeua:



Arabové



Češi



Maďaři



Rusové

11) Dnešní Istanbul měl v minulosti různé názvy (Byzantion, Konstantinopol, Cařihrad) – pokus se určit, v kterých jazycích jsou jeho jména napsána:

Moderní arabština

Византий – Константинополь – Цариград – Стамбул

Moderní ruština

Byzantion – Konstantinopolis – İstanbul

Moderní řečtina

إسطنبول – القسطنطينية – بيزنطة

Moderní turečtina

Βυζάντιο – Βυζαντινή Κωνσταντινούπολη – Ιστανμπούλ

12) Chybné mapy nejsou jen problémem minulosti. Dnešní Američané jsou známí svojí neznalostí zeměpisu. Ani slavná televize CNN na tom není zrovna nejlépe. Porad' jí:



Město Nikósie leží na středomořském ostrově, ale Sicílie to není – ve skutečnosti je na .....

Švýcarsko neleží od Německa směrem na východ, ale směrem na .....



Kambodža není v Africe, ale v .....



Západně od Česka se nenachází Irák, ale .....



Československo v roce 2014 již neexistovalo – zaniklo roku .....

Hong-Kong není v Brazílii, ale v .....



13) Kolik obrázků je celkem v tomto pracovním listu?

1 tučet    1 a 1/4 tuctu    1 a 1/3 tuctu    1 a 1/2 tuctu    1 a 2/3 tuctu    1 a 3/4 tuctu    2 tucty